

# PORTFOLIO

## LERNBEREICH RAUM

Almut Exner

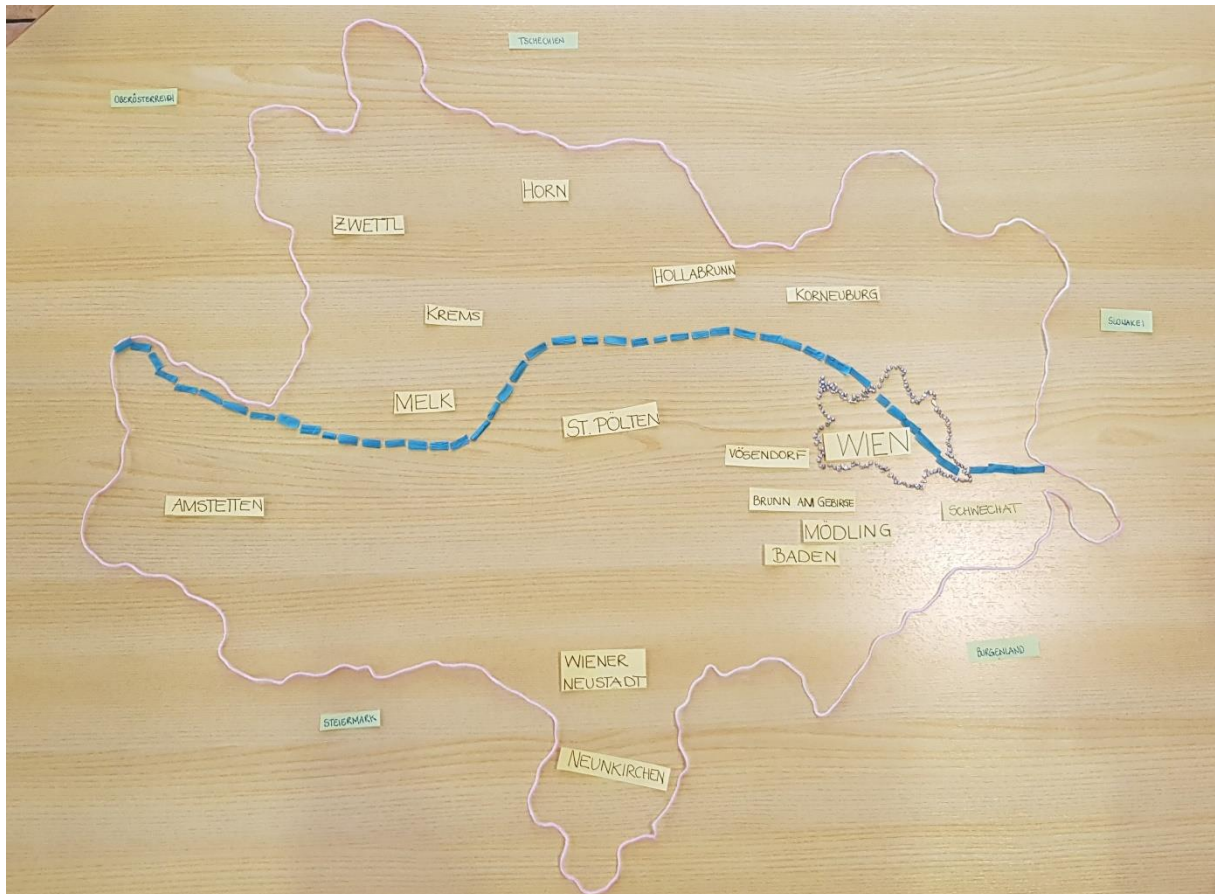
Matrikelnummer 01680284



# Modellkarte

## Niederösterreich mit den Bezirken, Nachbarländer und Donau

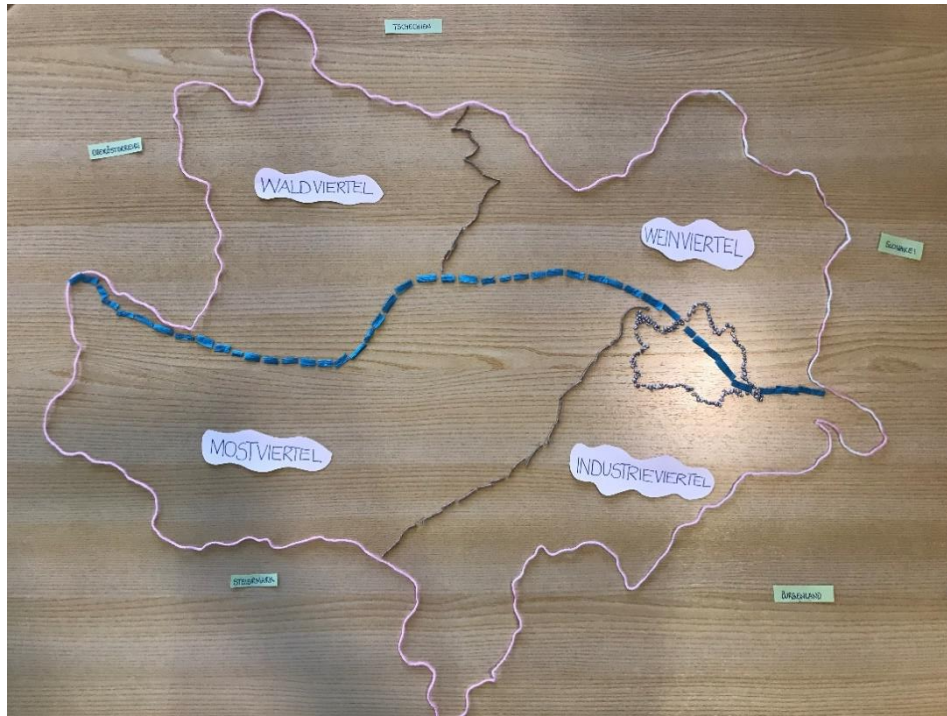
Als erstes wurde die Grenze der von Niederösterreich mittels Wolle gelegt. Im nächsten Schritt wurde Wien mit kleinen Steinchen geformt. Danach wurden die Bezirke auf Papier geschrieben und aufgelegt. Zur Unterscheidung von angrenzenden Nachbarländern und Bundesländern wurden diese auf grünem Papier geschrieben. Die Donau wurde mit einem Verpackungsband gelegt.



## Niederösterreich mit den vier Vierteln – Raum als Container

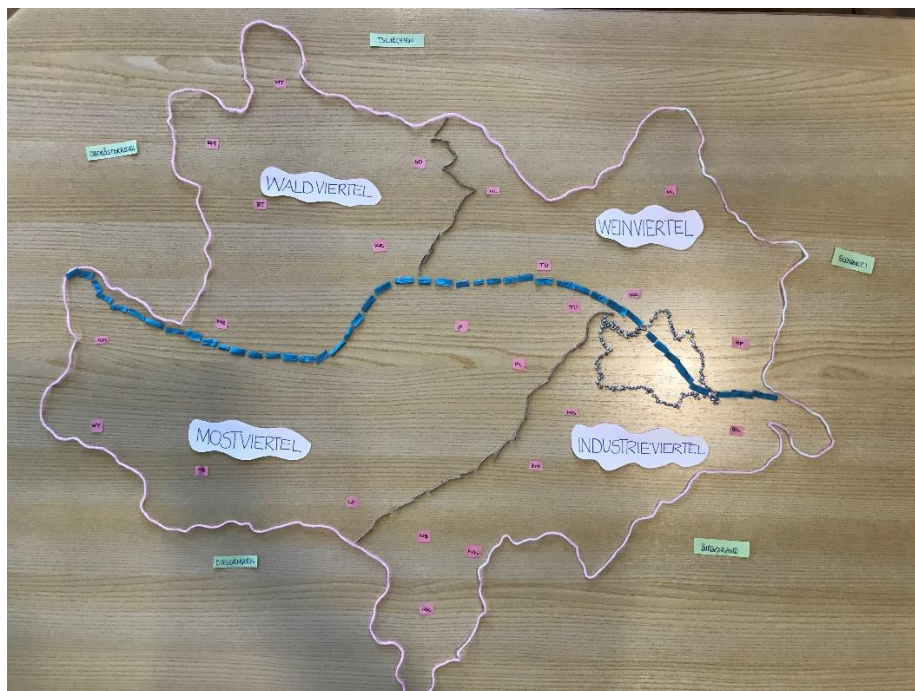
Die vier Viertel wurden mittels braunen Garns abgegrenzt und auf einem weißen Blatt beschriftet.

- Waldviertel
- Weinviertel
- Mostviertel
- Industrieviertel





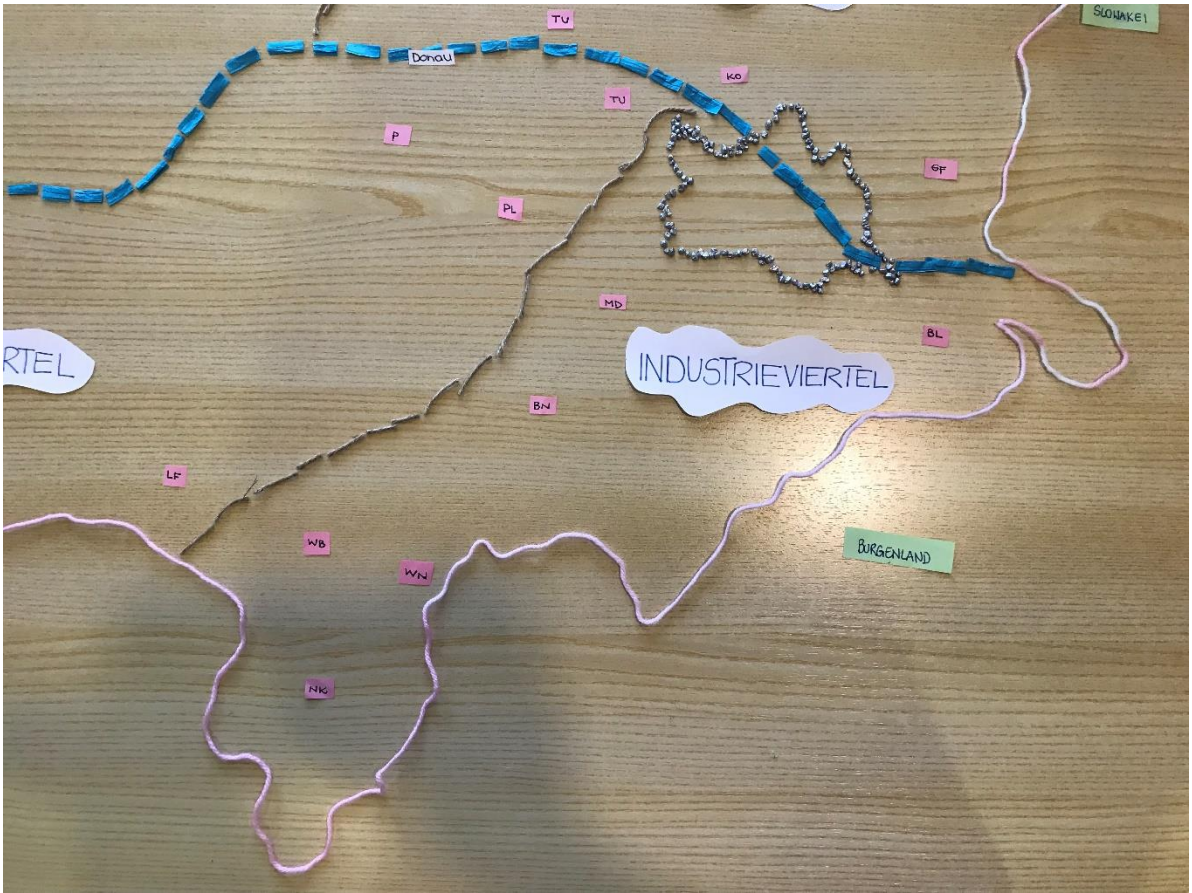
## Niederösterreich mit Bezirken

Die Bezirke von Niederösterreich wurden mit den Abkürzungen beschriftet.



## Die vier Vierteln mit Bezirken

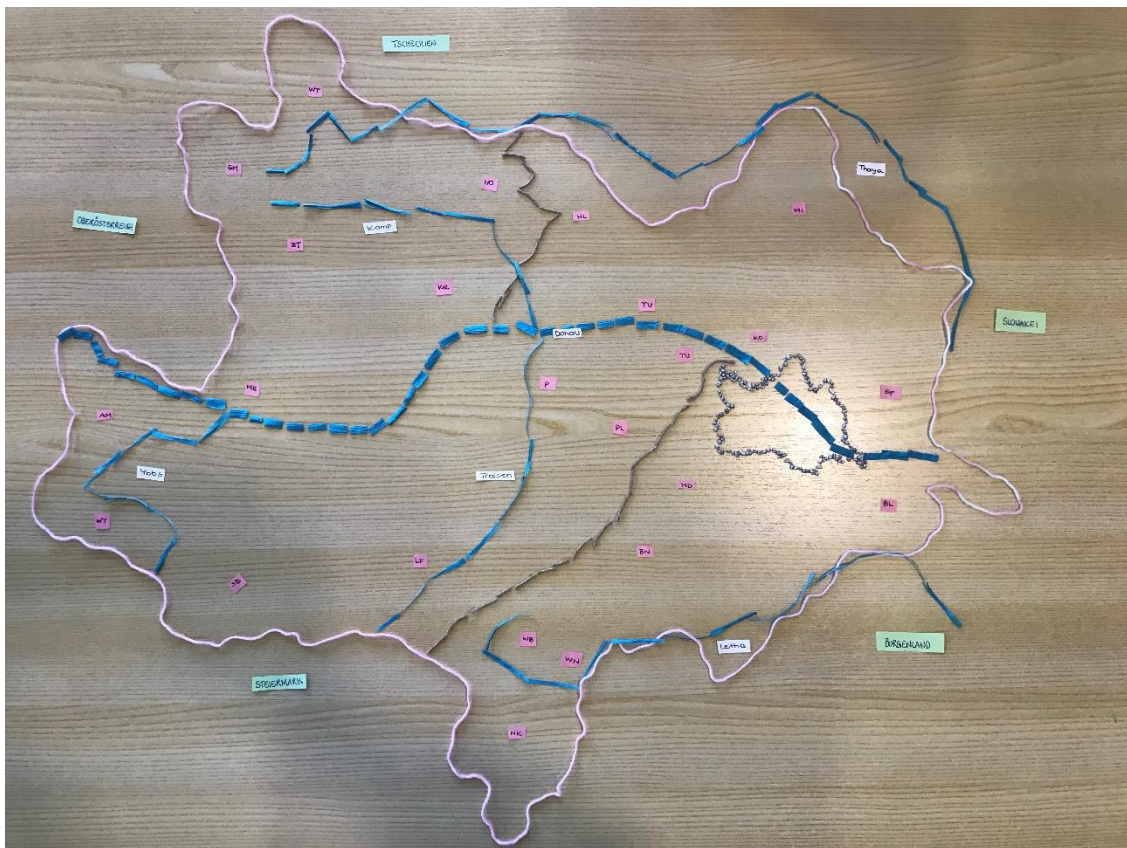




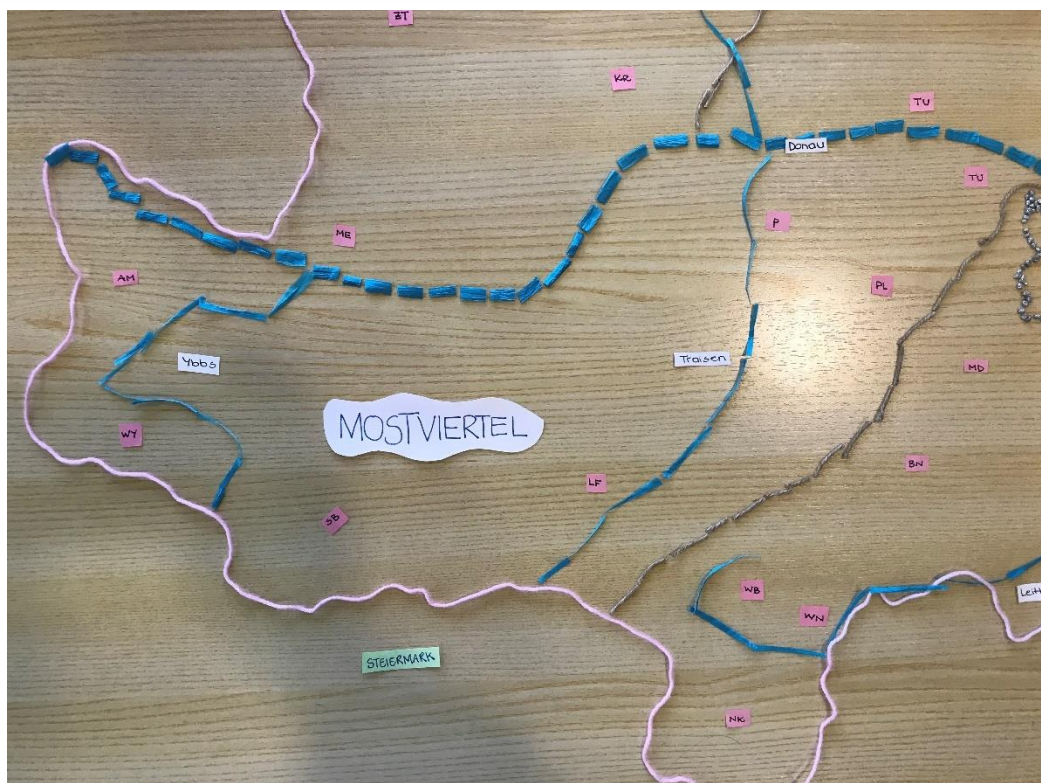

## Niederösterreich mit einigen Flüssen

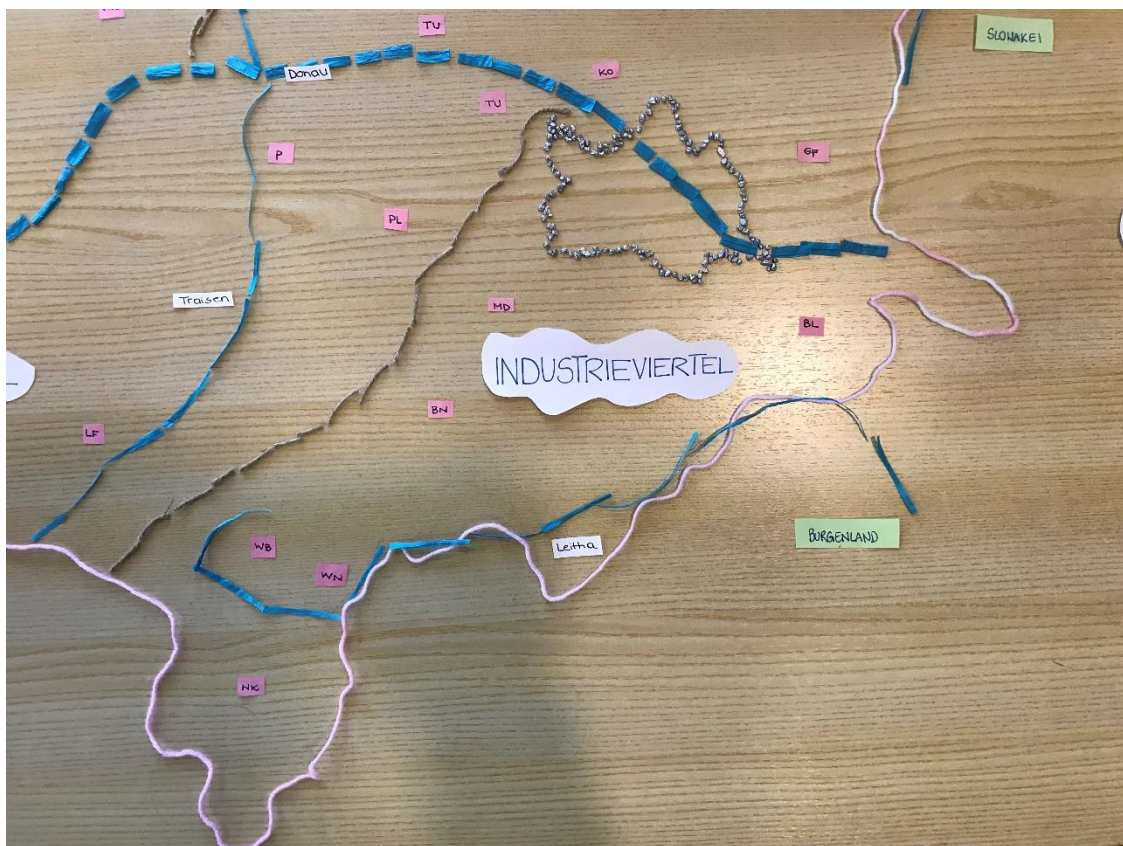
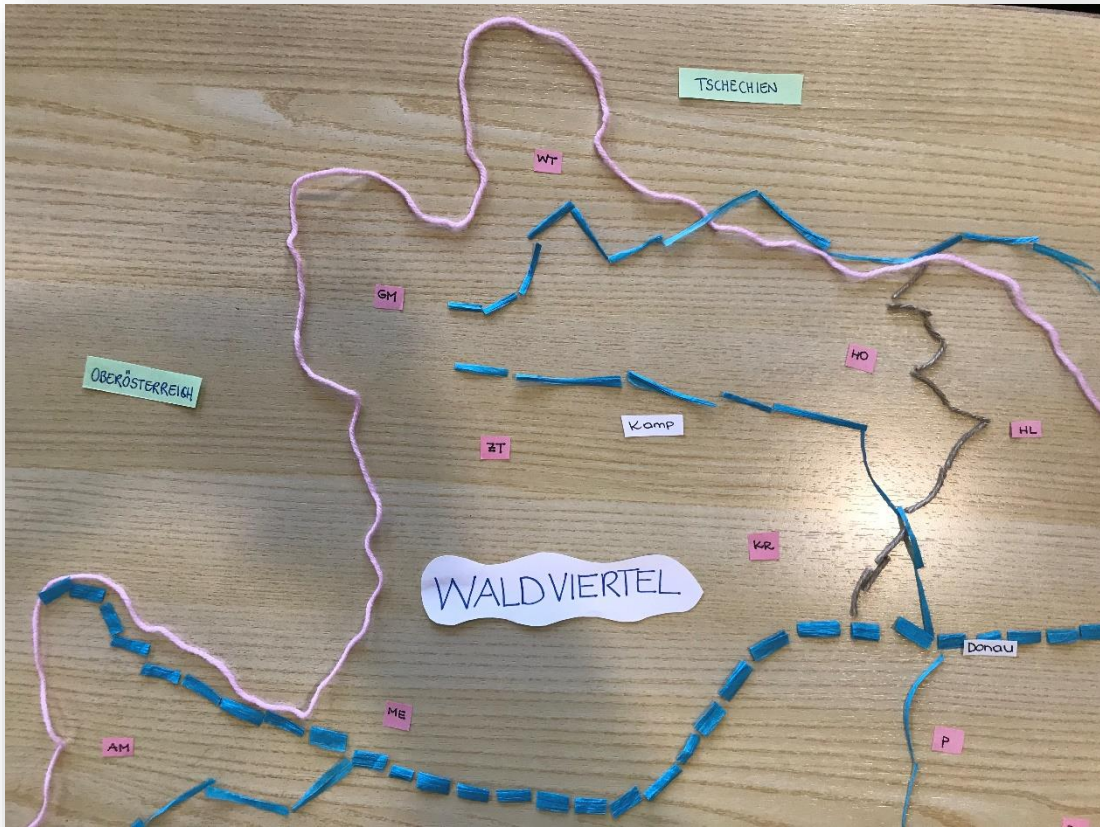
Folgende Flüsse in Niederösterreich wurden mit einem blauen Verpackungsband gelegt:

- Thaya
- Kamp
- Leitha
- Donau
- Ybbs
- Traisen




## Die vier Viertel mit einigen Flüssen





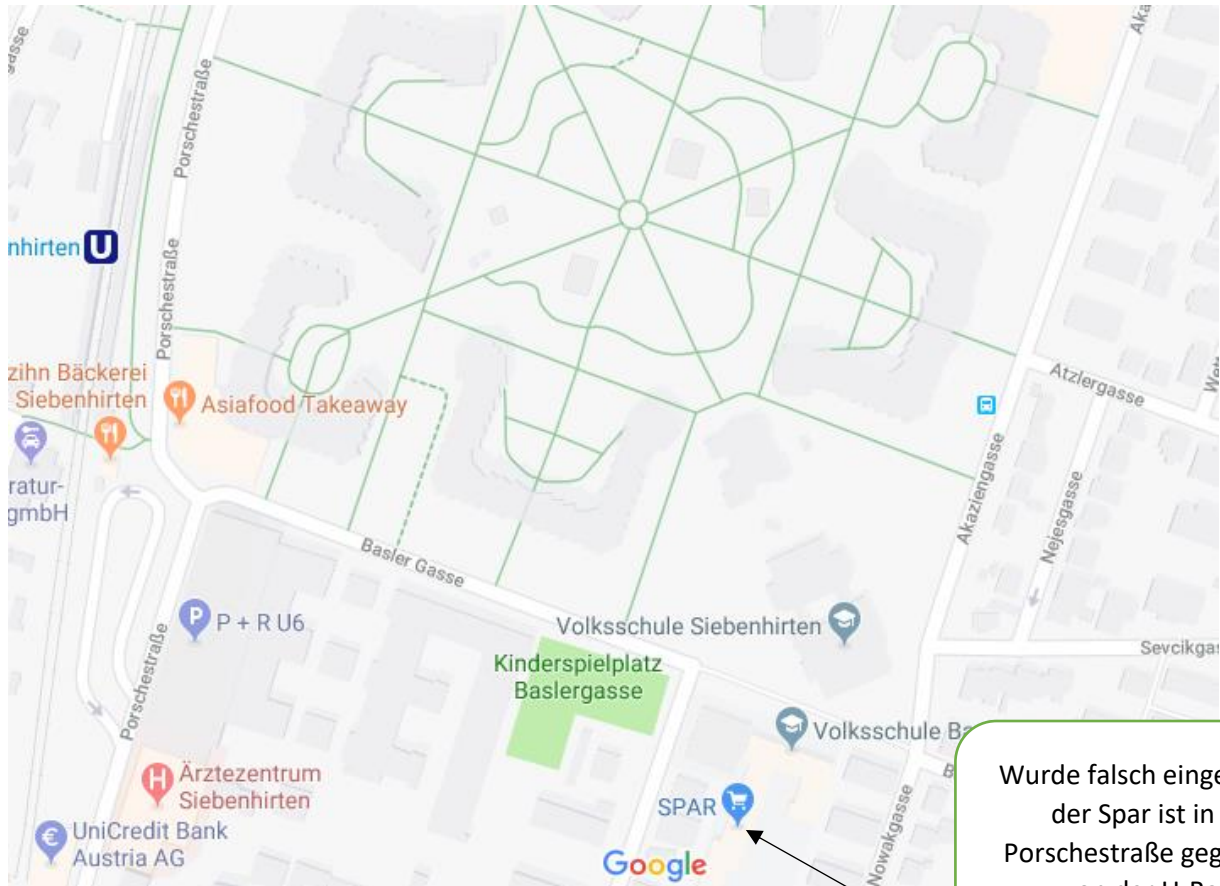


Niederösterreich Klimazonen und Raum als Beziehungsgefüge: wirtschaftliche Orientierung



# Erkundung einer Umgebung

## Siebenhirten



Wurde falsch eingetragen, der Spar ist in der Porschestraße gegenüber von der U-Bahn



## Container Raum (Wegbeschreibung)

Du gehst aus der Schule hinaus und gehst nach links. Nach der Plakatsäule drehst du dich nach rechts. Was befindet sich vor deiner Nase?

---

Wenn du nun vor dem Lehrerparkplatz stehst, befindet sich rechter Hand von dir einige Mülltonnen. In welche Kategorien sind die Mülltonnen zur Verfügung gestellt?

---

Nachdem du dich kundig gemacht hast, wie du deinen Müll zu trennen hast, gehst du den Gehsteig entlang der Baslergasse Richtung U Bahn. Was befindet sich unmittelbar nach dem Lehrerparkplatz zu deiner rechten Hand?

---

Nun gehst du an einer weißen Wand entlang, auf denen Zeichnungen vorzufinden sind, was kannst du erkennen?

---

Wie viele Betonwände wurden bemalt, bis die Wand endet? \_\_\_\_\_

Bevor du an der U Bahnstation Siebenhirten angelangst, welche Einkaufsmöglichkeiten findest du vor?

---

Zähle unmittelbar vor der U - Bahnstation die Bushaltestellen ab! Wie viele gibt es ?

---

Gehe nun zum Bäcker „Szihn“ und erkundige dich, wieviel eine Briochekipferl kostet!

---

Nun bist du an deiner letzten Station angekommen! Zähle ab, aus wie vielen Stationen die U6 besteht. Wie lautet ihre Endstation?

---

## Wahrnehmungsraum

Wenn ich aus meiner damaligen Volksschule hinausgehe, blicke ich auf das zweite Gebäude der Volksschule. Zwischen den zwei Gebäuden der Volksschule warten schon die Eltern gespannt auf ihre Kinder. Wenn ich den Weg Richtung Westen einschlage, gehe ich am hohen Zaun vom Hartplatz der Schule vorbei, den es zu meiner Zeit noch nicht gab. Mir sticht der Geruch der Blumen in die Nase, die in einem kleinen Beet zwischen den Schulen wachsen. Rechter Hand sticht mir der giftgrüne Zubau ins Auge, der zu meiner Zeit noch nicht bestand. Folge ich der Basler Gasse Richtung U – Bahnstation dringt das Bellen der Hunde, das quietschen der Kinder und das knirschen der Steine aus dem riesigen Wohnbau. Auf der anderen Seite sehe ich die Kinder voller Freude am Spielplatz herumtollen. Je weiter ich Richtung Westen gehe, desto hörbarer werden die brummenden Motoren der Busse. Direkt neben der U Bahnstation befinden sich die Bushaltestationen. Den Duft von frischem Gebäck kann ich auch schon riechen, denn es werden täglich frische Weckerln beim Szihn aufgebacken. Biege ich nach rechts, auf die Porschestraße kommen mir die alten Erinnerungen wieder zum Vorschein, hier hat sich nämlich in den Jahren so einiges verändert. Damals gab es neben dem Spar noch ein Zuckerlgeschäft, wo ich mir damals von meinem Taschengeld meine Lieblingsbonbons kaufen konnte. Heute befindet sich ein türkisches Lebensmittelgeschäft mit einem Imbiss in den Räumlichkeiten. Auch der Geruch von heißem Fett gab es damals noch nicht. Der Chinese neben dem Spar versorgt die Menschen mit kleinen Frühlingsrollen und Sushi. Wenn ich die Porschestraße Richtung Norden gehe, stehen die Autos wie eh und je. Die Menschen, die in Wien arbeiten parken ihr Auto und fahren mit der U-Bahn weiter.



Brauhaus Liesing



# LIESING – EINST UND HEUTE



Amtshaus Liesing





# KETZERGASSE



## 23. Bezirk





Mauterndorf Hauptplatz

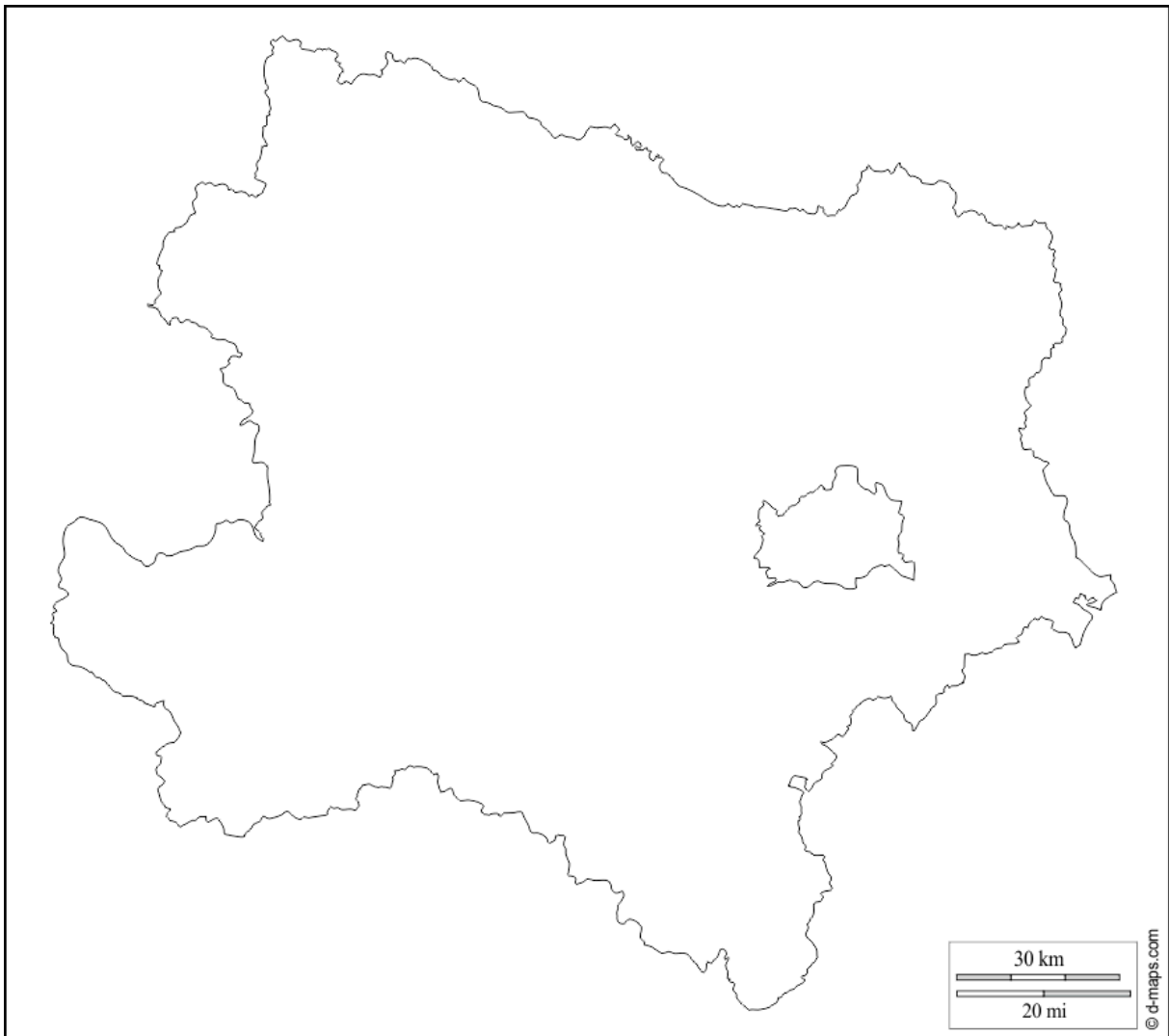


## Niederösterreich und seine vier Viertel

**Nenne die vier Vierteln in Niederösterreich**

1. \_\_\_\_\_
2. \_\_\_\_\_
3. \_\_\_\_\_
4. \_\_\_\_\_

**Kennzeichne die vier Vierteln in der Karte ein:**



**Welche zwei Vierteln befinden sich unterhalb der Donau?**


**Welche zwei Vierteln befinden sich oberhalb der Donau?**



## ARBEITSAUFTRAG

Was hat sich von damals zu heute verändert?

→ Betrachte die Bilder genau und nenne einige Veränderungen, die dir zwischen den Bildern auffallen!



---

---

---

---

---

---

---

## ARBEITSAUFTRAG



Finde dich mit einem Partner deiner Wahl zusammen und nehmt euch eine von der Lehrperson bereitgestellten Landkarte. Zuerst suchst du deinen Standort wo du wohnst. Dann versuchst du anhand einer einfachen Wegbeschreibung deinen Heimweg nach Hause, ausgehend von der Schule deinem Partner zu erklären. Dann tauscht ihr die Rolle und dein Partner sagt dir deinen Heimweg und du zeichnest den angesagten Weg mit Bleistift mit!